



Étude de cas : l'agneau fermier du Quercy

Problématique

En quoi le développement de l'élevage ovin peut-il dynamiser certains espaces ruraux en déprise en France ?

Exercice 1. Étude documentaire

1) À l'aide des documents ci-dessous, répondre aux questions suivantes :

a) Où se situent les principales régions d'élevage ovin en France ? Et les Causses du Quercy ?



b) À quel type d'espace rural le Quercy appartient-il ?

.....

.....

.....

.....

.....

.....

.....

.....

c) Quels sont les principaux exportateurs de viande ovine vers la France ? En France, quelle est la part de viande ovine importée ?

.....

.....

.....

.....


.....

.....

.....

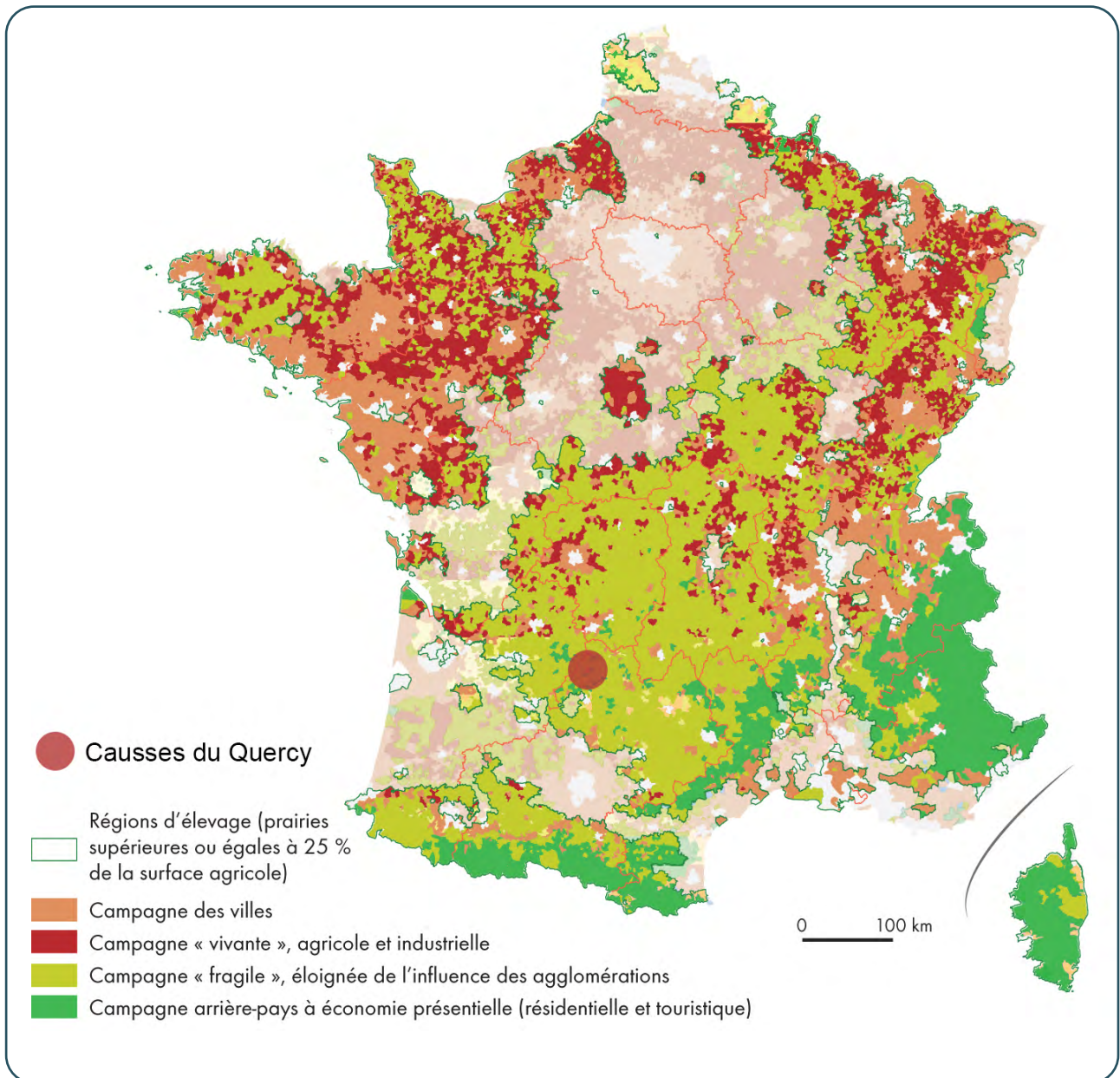
.....

Document 1. L'élevage ovin en France



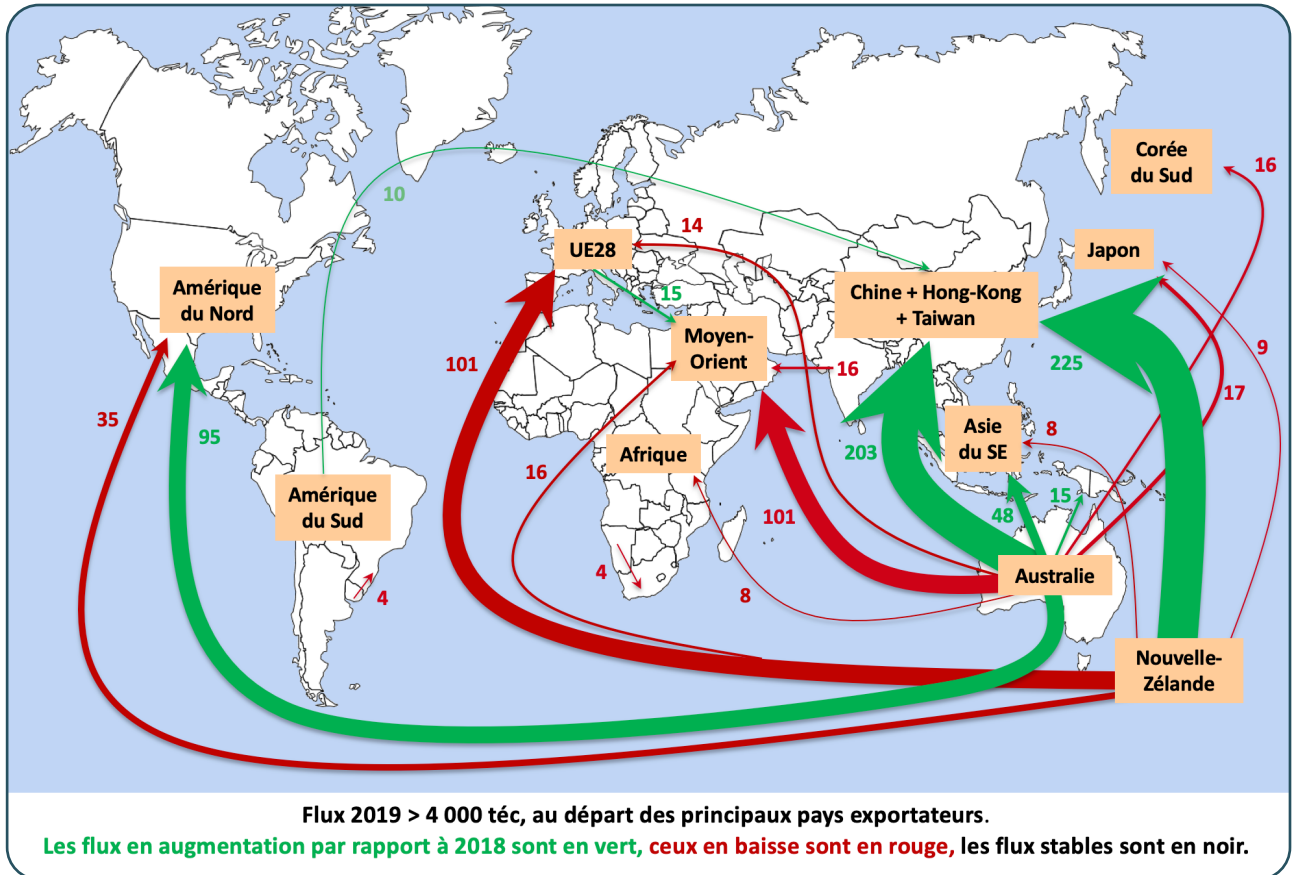
Source : Agreste recensement agricole 2010 - cartographie Institut de l'Élevage.

Document 2. Les espaces ruraux en France



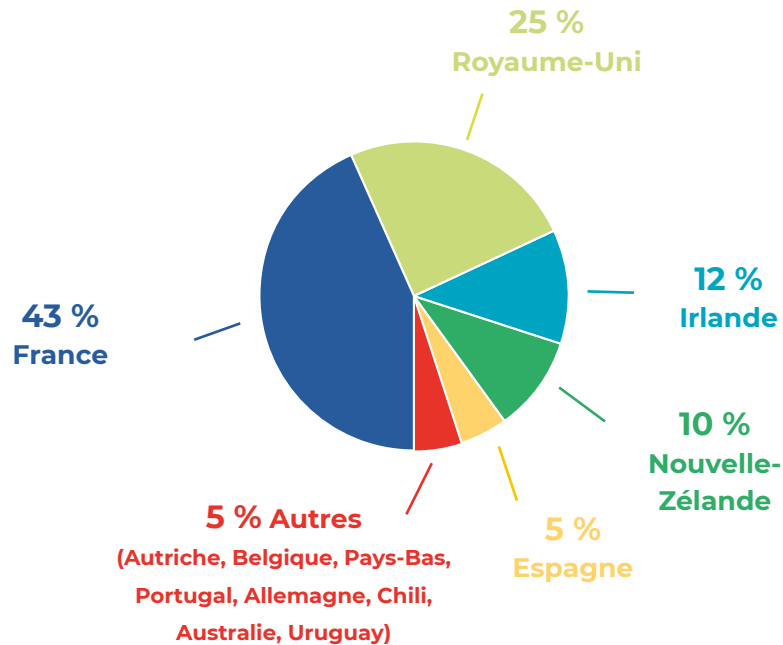
Sources : Ceramag, d'après Datar 2012 et Idele, d'après les données Agreste. Recensement agricole 2010.

Document 3. Les flux de viande ovine dans le monde



Source : GEB - Institut de l'Élevage d'après Trade Map, Eurostat et NZ Statistics (x 1 000 tonnes équivalent carcasse).

Document 4. Origine de la viande ovine consommée en France



Source : Estimations GEB – Institut de l'Élevage d'après le SSP et les Douanes françaises (chiffres 2017).

2) Visionner le reportage « À Rocamadour, l'agneau du Quercy reste une référence » réalisé par France 3 puis répondre aux questions ci-après :

Document 5. À Rocamadour, l'agneau du Quercy reste une référence,
France 3, mars 2016



Lien : https://www.francetvinfo.fr/economie/a-rocamadour-l-agneau-du-quercy-reste-une-reference_1343489.html



a) Quelles sont les caractéristiques géographiques des Causses du Quercy ?

b) Quelle information l'éleveur donne-t-il à propos de la rentabilité de son exploitation ?

c) Combien d'agneaux produit-il par an ?

d) Pourquoi cet agneau du Quercy n'est-il pas considéré comme un produit standard ?

e) Quel est l'intérêt de cette forme d'élevage pour l'environnement local ?

Exercice 2. Analyse d'un texte

1) Lire le texte suivant et répondre aux questions. Justifier les réponses.

Une solide tradition

Le seul élevage spéculatif, en Quercy, fut pendant des siècles celui du mouton. Les troupeaux se nourrissaient de la végétation pauvre des plateaux calcaires des Causses. Les années passant, l'agneau du Lot, considéré comme un produit de luxe, connut une réputation flatteuse sur le marché parisien. Cependant, dans les années 1980, certaines pratiques dénaturèrent l'image de qualité de la production et poussèrent les éleveurs à se mobiliser pour redonner à l'agneau du Quercy la place qu'il détenait auparavant.

C'est ainsi que, dès 1982, naquit « l'Association des Éleveurs d'Agneaux Fermiers du Lot élevés sous la mère ». Cette association opta pour un label très contraignant tant du point de vue technique que pour la traçabilité de la viande : le label rouge. La mise en place d'un cahier des charges de production, le regain de faveur des produits fermiers, l'effort de toute la profession et du département permirent aux producteurs favorables au label de faire reconnaître la qualité de leurs produits. En quelques années, cela leur permit de recueillir une plus-value intéressante. Ainsi, en 1995 l'agneau du Quercy est lauréat dans la catégorie « viande » à la première coupe d'Europe des saveurs régionale, surpassant 114 autres types de viandes. L'année suivante, l'agneau du Quercy obtient une reconnaissance européenne avec l'Indication Géographique Protégée. Enfin, ces deux dernières années, une quarantaine de jeunes lotois se sont installés et ont démarré un élevage ovin dans le département.



D'après <http://www.agneau-quercy.com/label-rouge.php>



a) Quelle est la mesure essentielle qui a permis de mettre en place une filière de qualité ?

.....

.....

.....

.....

.....

b) En quoi cette mesure a-t-elle facilité cette reconnaissance de la qualité de la viande ?

.....

.....

.....

.....

.....

c) Quels sont les acteurs qui interviennent dans ce projet ?

.....

.....

.....

.....

.....

.....



Exercice 3. Synthèse

À partir des réponses aux questions précédentes et des connaissances, traiter le sujet suivant : en quoi le développement de l'élevage ovin peut-il dynamiser certains espaces ruraux en déprise ?

.....

.....

.....

.....

.....

.....

.....

.....

.....

.....

.....

.....

.....

.....

.....

.....

.....

.....

.....

.....

.....